

Γεωγραφικός Όμιλος Κύπρου

Παγκύπριος Σύνδεσμος
Καθηγητών Γεωγραφίας
Ο.Ε.Λ.Μ.Ε.Κ.



1^η Παγκύπρια Ολυμπιάδα Γεωγραφίας Γυμνασίου

ΓΑΙΑ 2019

Σάββατο 13 Απριλίου 2019 Διάρκεια: 2 ώρες (11:00-13:00)

ΟΔΗΓΙΕΣ ΠΡΟΣ ΤΟΥΣ ΔΙΑΓΩΝΙΖΟΜΕΝΟΥΣ

1. Στο ΦΥΛΛΟ ΑΠΑΝΤΗΣΕΩΝ:

α. Μαυρίστε με μολύβι τους κατάλληλους κύκλους για να δηλώσετε:

(i) το ΕΞΕΤΑΣΤΙΚΟ ΚΕΝΤΡΟ,

(ii) το ΦΥΛΟ, και

(iii) τον ΚΩΔΙΚΟ ΑΡΙΘΜΟ ΜΑΘΗΤΗ (που σας έχει δοθεί από τον επιτηρητή)

β. Μη γράψετε οτιδήποτε στο φύλλο απαντήσεων το οποίο θα μπορεί να αποκαλύψει την ταυτότητά σας.

2. Το εξεταστικό δοκίμιο αποτελείται από πενήντα (50) ερωτήσεις πολλαπλής επιλογής.

3. Για κάθε ερώτηση υπάρχει ΜΟΝΟ ΜΙΑ ορθή απάντηση που βαθμολογείται με μια (1) μονάδα.

4. Για κάθε λανθασμένη απάντηση αφαιρείται 0,25 της μονάδας (-0,25).

5. Ερώτηση για την οποία δίνονται δύο ή περισσότερες απαντήσεις θεωρείται λανθασμένη (-0,25).

6. Κάθε αναπάντητη ερώτηση βαθμολογείται με μηδέν (0) μονάδες.

7. Οι επιλογές καταχωρούνται στο ΦΥΛΛΟ ΑΠΑΝΤΗΣΕΩΝ:

α. Μαυρίστε με μολύβι τον κύκλο που αντιστοιχεί στην απάντηση που επιλέγετε. Π.χ.



β. Σε περίπτωση λάθους σβήστε με το σβηστήρι

σας, χωρίς μουντζούρες, τον μαυρισμένο κύκλο και μαυρίστε τον κύκλο που αντιστοιχεί στη νέα σας επιλογή.

γ. Απαγορεύεται η χρήση διορθωτικού στο ΦΥΛΛΟ ΑΠΑΝΤΗΣΕΩΝ.

δ. Μη τσαλακώνετε το ΦΥΛΛΟ ΑΠΑΝΤΗΣΕΩΝ.

1. Ποια από τις παρακάτω επιλογές είναι σωστή, ως προς τη θέση των πλανητών, κατά σειρά αποστάσεως από τον Ήλιο;

- A Ο Άρης βρίσκεται μετά τον Ερμή και πριν τη Γη
- B Η Γη βρίσκεται μετά τον Ερμή και πριν την Αφροδίτη
- C Η Γη βρίσκεται μετά τον Κρόνο και πριν τον Ερμή
- D Ο Ποσειδώνας βρίσκεται μεταξύ του Ουρανού και του Δία
- E Όλα τα παραπάνω είναι λάθος.

2. Στις περιοχές που έχουν Μεσογειακό κλίμα συναντάμε:

- A πολύ ψυχρούς και μεγάλης διάρκειας χειμώνες
- B ήπιους χειμώνες και δροσερά καλοκαίρια
- C θερμό και βροχερό κλίμα, όλη τη διάρκεια του χρόνου
- D θερμά και ξηρά καλοκαίρια, ήπιους και υγρούς χειμώνες
- E πολύ χαμηλές θερμοκρασίες, όλη τη διάρκεια του χρόνου.

3. Να παρατηρήσετε το σχήμα 1.



Σχήμα 1.

Σε διαφορετικές ώρες μιας ηλιόλουστης μέρας ένα δέντρο σχηματίζει σκιά διαφορετικού μήκους. Ποια εικόνα δείχνει τη σκιά του δέντρου στις 12:00 το μεσημέρι; Να επιλέξετε τη σωστή εικόνα.

- A Η εικόνα Α
- B Η εικόνα Β
- C Η εικόνα Γ
- D Η εικόνα Δ
- E Η εικόνα Ε.

4. Να παρατηρήσετε τον Πίνακα 1.

Πίνακας 1. Μετρήσεις θερμοκρασίας, βροχόπτωσης και χιονόπτωσης

	Πόλη Α	Πόλη Β	Πόλη Γ	Πόλη Δ
Χαμηλότερη θερμοκρασία	13° C	-9° C	22° C	-12° C
Ψηλότερη θερμοκρασία	25° C	-1° C	30° C	-4° C
Μετρήσεις βροχής / χιονιού	0 cm	5 cm	2,5 cm	0 cm

**Σε ποια πόλη χιόνισε;
Να επιλέξετε τη σωστή απάντηση.**

- A** Πόλη Α
- B** Πόλη Β
- C** Πόλη Γ
- D** Πόλη Δ
- E** Σε καμιά.

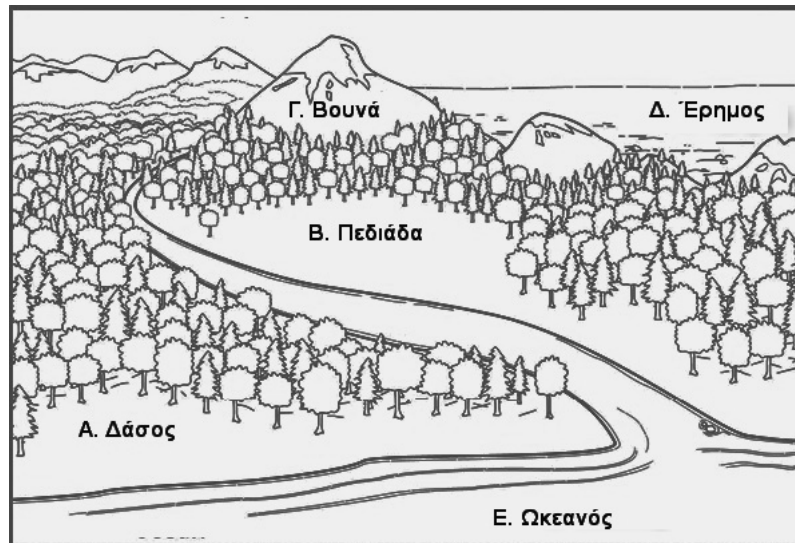
5. Δίσεκτο θεωρείται το έτος που:

- A** έχει 365 μέρες
- B** έχει 366 μέρες
- C** έχει 367 μέρες
- D** ο Φεβρουάριος έχει 28 μέρες
- E** ο Φεβρουάριος έχει 30 μέρες.

6. Το μεγαλύτερο κράτος σε έκταση στον πλανήτη είναι:

- A** οι Ηνωμένες Πολιτείες Αμερικής
- B** η Κίνα
- C** ο Καναδάς
- D** η Ρωσία
- E** η Βραζιλία.

7. Να παρατηρήσετε την Εικόνα 1.



Εικόνα 1

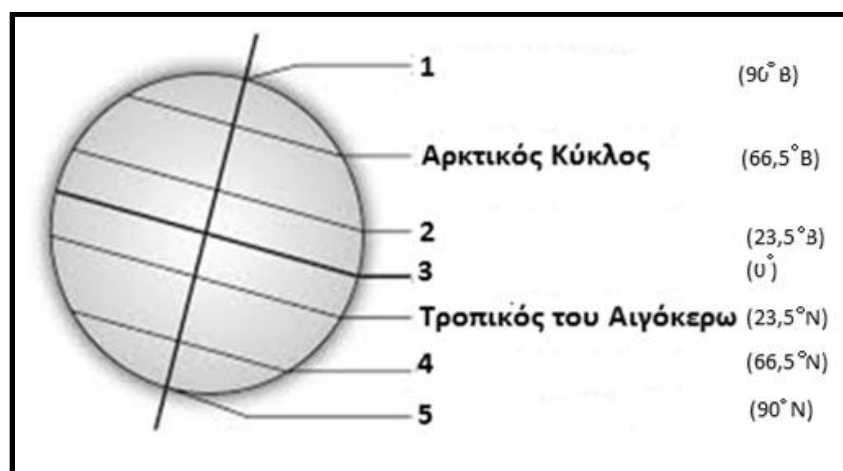
Να επιλέξετε την καλύτερη τοποθεσία για καλλιέργειες.

- A Τοποθεσία Α
- B Τοποθεσία Β**
- C Τοποθεσία Γ
- D Τοποθεσία Δ
- E Τοποθεσία Ε.

8. Ένα κομμάτι γης που από τις τρεις πλευρές περιβάλλεται από θάλασσα και από την τέταρτη πλευρά είναι ενωμένο με την υπόλοιπη στεριά, ονομάζεται:

- A ισθμός
- B κόλπος
- C νησί
- D χερσόνησος**
- E πορθμός

9. Να παρατηρήσετε το Σχήμα 2.



Σχήμα 2

Πώς ονομάζεται ο παράλληλος με τον αριθμό 3; Να επιλέξετε τη σωστή απάντηση.

- A Βόρειος Πόλος
- B Νότιος Πόλος
- C Ισημερινός
- D Τροπικός του Καρκίνου
- E 1ος Μεσημβρινός.

10. Ποιο από τα παρακάτω ΔΕΝ είναι παράγοντας που επηρεάζει το κλίμα;

- A Τα θαλάσσια ρεύματα
- B Το υψόμετρο
- C Η απόσταση της περιοχής από τη θάλασσα
- D Τα ορυχεία.
- E Οι άνεμοι.

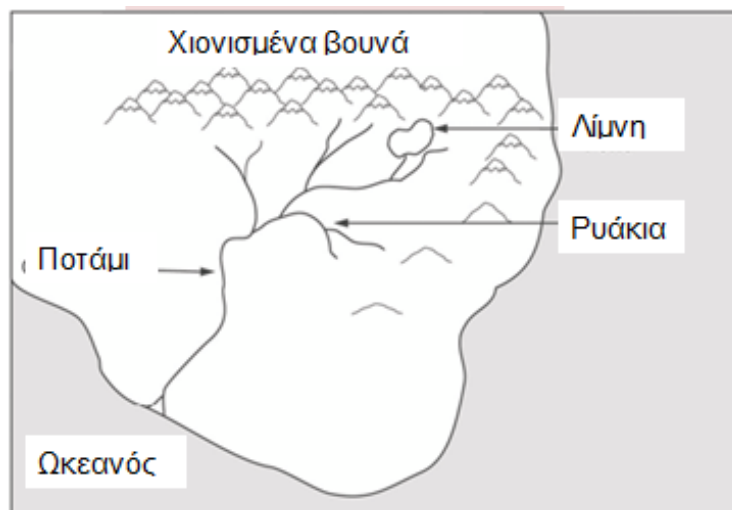
11. Η ψηλότερη κορυφή του κόσμου βρίσκεται:

- A στο Έβερεστ
- B στο Έλμπρους
- C στο Λευκό Όρος
- D στο Κιλιμάντζαρο
- E στον Όλυμπο.

12. Όσο ανεβαίνουμε υψόμετρο:
Να επιλέξετε τη σωστή απάντηση.

- A τόσο αυξάνεται η θερμοκρασία
- B η θερμοκρασία παραμένει ίδια
- C τόσο μειώνεται η θερμοκρασία
- D τόσο αυξάνεται το οξυγόνο
- E το οξυγόνο παραμένει το ίδιο.

13. Να παρατηρήσετε το Σχήμα 3.



Σχήμα 3

Σε ποια περιοχή είναι περισσότερο πιθανό να συναντήσουμε αλμυρό νερό;
Να επιλέξετε την σωστή απάντηση.

- A Στον ωκεανό
- B Στην ορεινή λίμνη
- C Στον ποταμό
- D Στα ρυάκια
- E Σε μορφή χιονιού στα βουνά.

14. Να παρατηρήσετε τον Χάρτη 1.



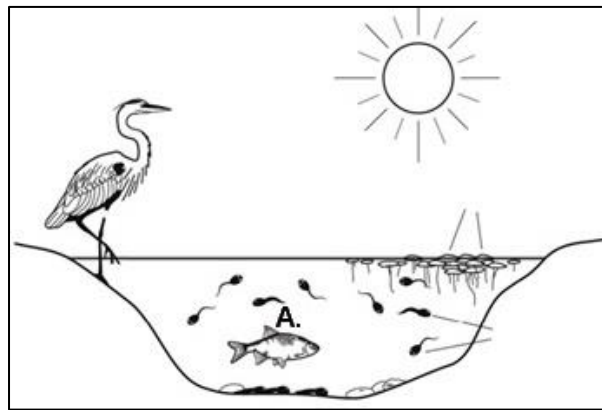
**Οι γεωγραφικές συντεταγμένες του σημείου 4 είναι:
Να επιλέξετε τη σωστή απάντηση.**

- A** Γ.Π. 50° Β - Γ.Μ. 60° Α
- B** Γ.Π. 60° Ν - Γ.Μ. 50° Α
- C** Γ.Π. 60° Β – Γ.Μ. 50° Α
- D** Γ.Π. 100° Β – Γ.Μ. 40° Δ
- E** Γ.Π. 50° Β – Γ.Μ. 50° Α.

15. Να επιλέξετε τη σωστή απάντηση.

- A** Ο κύριος λόγος που μπορούμε να δούμε τη Σελήνη είναι το γεγονός ότι η Σελήνη αντανακλά φως κυρίως από τη Γη.
- B** Ο κύριος λόγος που μπορούμε να δούμε τη Σελήνη είναι το γεγονός ότι η Σελήνη αντανακλά φως κυρίως από τον ήλιο.
- C** Ο κύριος λόγος που μπορούμε να δούμε τη Σελήνη είναι το γεγονός ότι η Σελήνη παράγει το δικό της φως.
- D** Ο κύριος λόγος που μπορούμε να δούμε τη Σελήνη είναι το γεγονός ότι η Σελήνη είναι μεγαλύτερη από τα αστέρια.
- E** Τίποτα από τα παραπάνω δεν είναι ορθό.

16. Να παρατηρήσετε την Εικόνα 2.



Εικόνα 2

Το νερό της λίμνης (σημείο Α) σε ποια «σφαίρα» ανήκει; Να επιλέξετε τη σωστή απάντηση.

- A Ασθενόσφαιρα
- B Τροπόσφαιρα
- C Υδρόσφαιρα
- D Λιθόσφαιρα
- E Ατμόσφαιρα.


17. Οι τιμές που μπορεί να πάρει το Γεωγραφικό Πλάτος ενός σημείου κυμαίνονται από:

- A 180 μοίρες Ανατολικά έως 80 μοίρες Δυτικά
- B 180 μοίρες Ανατολικά έως 90 μοίρες Δυτικά
- C 90 μοίρες Βόρεια έως 90 μοίρες Νότια
- D 90 μοίρες Ανατολικά έως 90 μοίρες Νότια
- E 0 μοίρες έως 90 μοίρες Βόρεια.

18. Η Γη περιστρέφεται γύρω από τον άξονά της. Τι αποτέλεσμα έχει αυτή η κίνηση;

- A Την εναλλαγή των εποχών
- B Την έκλειψη του Ήλιου
- C Την εναλλαγή της μέρας με τη νύχτα
- D Την πρόκληση σεισμών
- E Την έκλειψη της Σελήνης.

19. Να παρατηρήσετε την Εικόνα 3.



Εικόνα 3

Να επιλέξετε τον αριθμό που αντιστοιχεί σε ένα ηφαίστειο.

- A 1
- B 2
- C 3
- D 4
- E 5.

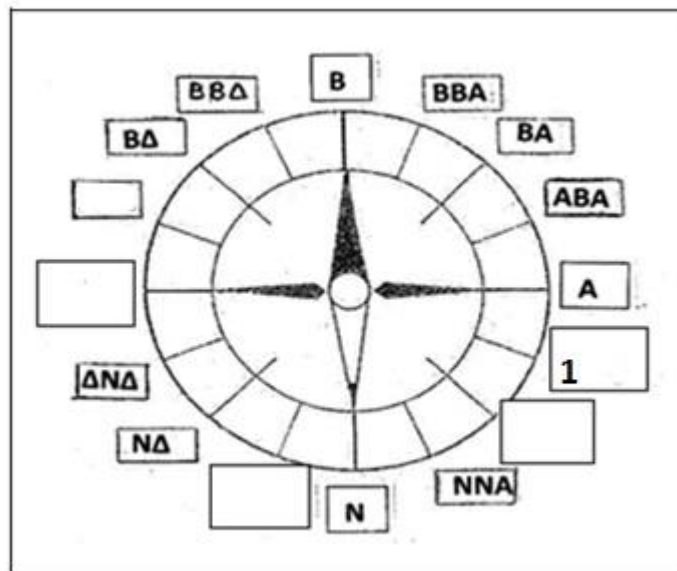
20. Πότε έχουμε Εαρινή Ισημερία στο Βόρειο Ημισφαίριο;

- A 21 Ιανουαρίου
- B 21 Μαρτίου
- C 21 Ιουνίου
- D 21 Δεκεμβρίου
- E 21 Σεπτεμβρίου.

21. Πώς αλλιώς ονομάζονται τα κωνοφόρα δάση. Να επιλέξετε τη σωστή απάντηση.

- A Τούνδρα
- B Φυλλοβόλα δάση
- C Τάιγκα
- D Σαβάνα
- E Μουσώνες.

22. Να παρατηρήσετε το Σχήμα 4.

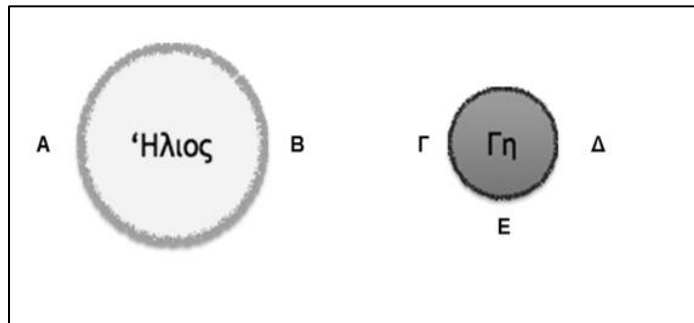


Σχήμα 4

Να επιλέξετε τη σωστή απάντηση που δείχνει την κατεύθυνση του σημείου 1.

- A ΔΔΑ
- B ΝΝΑ
- C Δ
- D ΝΝΔ
- E ΑΝΑ.

23. Να παρατηρήσετε το Σχήμα 5.



Σχήμα 5

Κατά τη διάρκεια της έκλειψης Ηλίου ολόκληρος ο Ήλιος ή ένα μέρος του, δεν είναι ορατός από τη Γη. Αυτό οφείλεται στη θέση της Σελήνης. Να επιλέξετε τη θέση που μπορεί να βρίσκεται η Σελήνη κατά τη διάρκεια της έκλειψης Ήλιου.

- A A
- B B
- C Γ
- D Δ
- E E.

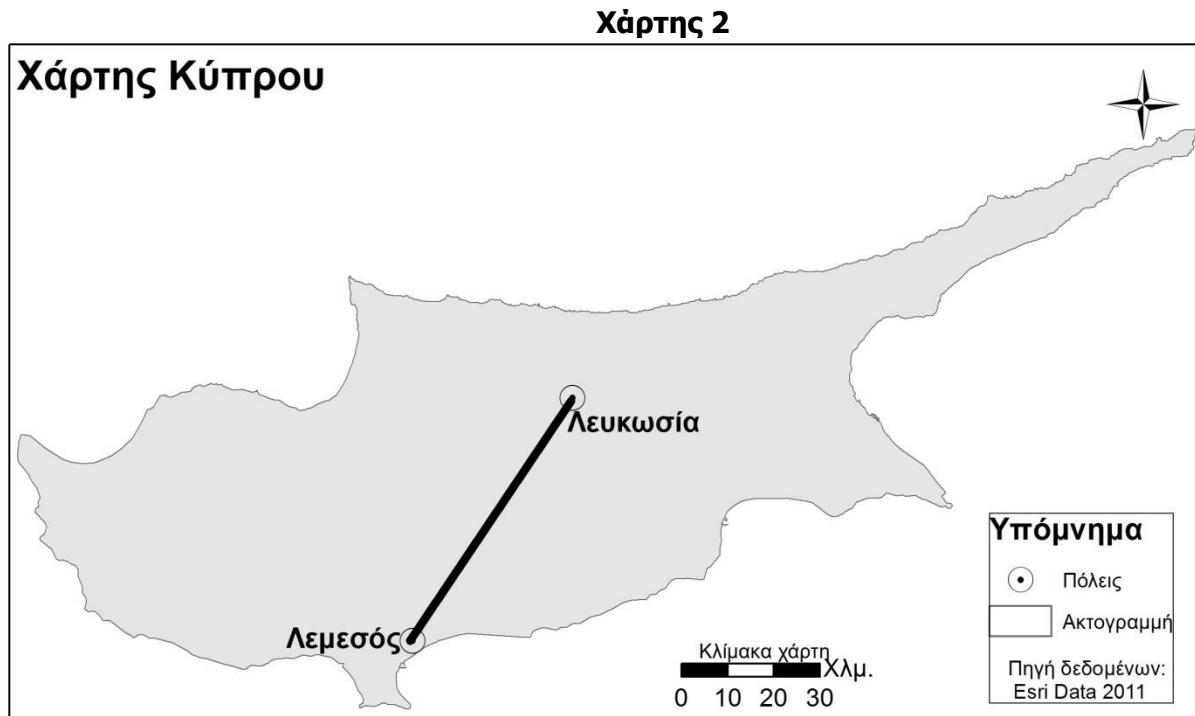
24. Ποια από τις παρακάτω επιλογές δεν ισχύει;
Οι άνθρωποι μεταναστεύουν στις μεγάλες πόλεις:

- A λόγω των πολιτιστικών δρώμενων που συντελούνται εκεί
- B επειδή προσφέρουν περισσότερες υπηρεσίες υγείας
- C επειδή έχουν περισσότερες επιλογές σε θέματα παιδείας/εκπαίδευσης
- D επειδή είναι περιβαλλοντικά φιλικές
- E επειδή προσφέρουν περισσότερες ευκαιρίες απασχόλησης.

25. Η κατεύθυνση κίνησης του νερού σε έναν ποταμό εξαρτάται από:

- A το μήκος του ποταμού
- B την κλίση της επιφάνειας της Γης
- C το είδος των πετρωμάτων, πάνω από τα οποία ρέει το νερό
- D τη θέση του Μαγνητικού Βορρά
- E το κλίμα.

26. Να παρατηρήσετε τον Χάρτη 2.



Χρησιμοποιώντας τη γραμμική κλίμακα να υπολογίσετε την πραγματική απόσταση σε χιλιόμετρα Λευκωσίας – Λεμεσού. Να επιλέξετε τη σωστή απάντηση.

- A** 62 χιλιόμετρα
- B** 95 χιλιόμετρα
- C** 20 χιλιόμετρα
- D** 110 χιλιόμετρα
- E** 50 χιλιόμετρα.

27. Να επιλέξετε τη σωστή απάντηση. Τα κωνοφόρα δάση:

- A** εκτείνονται στην περιοχή του αρκτικού κύκλου
- B** βρίσκονται σε περιοχές που υπάρχει έλλειψη νερού
- C** βρίσκονται σε περιοχές κοντά στον Ισημερινό
- D** καλύπτουν τεράστιες εκτάσεις σε περιοχές με αυξημένο υψόμετρο
- E** αποτελούν το βίοτοπο που ζουν οι πολικές αρκούδες.

28. Να παρατηρήσετε τον Χάρτη 3.

Χάρτης 3



Να βρείτε την πόλη που βρίσκεται στον αριθμό 1.
Να επιλέξετε τη σωστή απάντηση.

- A Βερολίνο
- B Λονδίνο
- C Παρίσι
- D Βαρσοβία
- E Ρώμη.

29. Ποιο από τα παρακάτω επεξηγεί την υπεραλίευση;

- A Όταν σκοτώνουμε συνειδητά ένα ζώο
- B Όταν ψαρεύουμε περισσότερα ψάρια από όσα μπορούν να αναπαραχθούν
- C Όταν κτίζουμε στις παραλίες πολλά ξενοδοχεία, σπίτια, λιμάνια και δρόμους
- D Όταν τοξικά απόβλητα, λύματα και σκουπίδια προκαλούν θαλάσσια ρύπανση
- E Η παρουσίαση πολλών ιχθυοτροφείων σε μια χώρα.

30. Να παρατηρήσετε τον Χάρτη 4.



Όσον αφορά τον προσανατολισμό, τι πορεία πρέπει να ακολουθήσει κάποιος αν θέλει να πάει από τη Σαλαμίνα στο Κούριο. Να επιλέξετε τη σωστή απάντηση.

- A** Νοτιοδυτικά
- B** Βορειοανατολικά
- C** Νοτιοανατολικά
- D** Βορειοδυτικά
- E** Νότια.

31. Τι είναι ένας φυσικός δορυφόρος;

- A** Κάθε φυσικό ουράνιο σώμα που περιφέρεται γύρω από έναν πλανήτη ή πλανήτη νάνο ή ουράνιο σώμα και υπακούει τους ίδιους νόμους της ουράνιας μηχανικής που ρυθμίζουν την κίνηση των πλανητών
- B** Κάθε ουράνιο σώμα που παράγει ενέργεια από πυρηνικές αντιδράσεις σύντηξης που συμβαίνουν στον πυρήνα του
- C** Κάθε ουράνιο σώμα που βρίσκεται σε τροχιά γύρω από ένα κομήτη
- D** Κάθε ουράνιο σώμα που παρουσιάζει νεφελώδη όψη
- E** Κάθε τεχνητό ουράνιο σώμα που περιφέρεται γύρω από τον Ήλιο.

32. Να παρατηρήσετε τον Πίνακα 2.

Πίνακας 2.

	Κύπρος	Κίνα	Η.Π.Α	Ελβετία	Γερμανία	Αφγανιστάν	Αγκόλα
Πρωτογενής τομέας Παραγωγής (ποσοστό)	2,1	9,6	1.2	1.3	0.8	31.0	9.6
Δευτερογενής τομέας Παραγωγής (ποσοστό)	18,6	46,8	22.2	27.5	27.9	26.0	65.8
Τριτογενής τομέας Παραγωγής (ποσοστό)	79,3	43,6	76.6	71.2	71.3	43.0	24.6
Κατά Κεφαλήν Α.Ε.Π.	\$ 30,480	\$ 3,650	\$ 46,360	\$ 65,430	\$ 42,450	\$310	\$ 3,750

Πηγή δεδομένων: World Bank Open Data 2019

Ποια χώρα έχει το υψηλότερο κατά κεφαλήν Ακαθάριστο Εγχώριο Προϊόν; Να επιλέξετε τη σωστή απάντηση.

- A** Κύπρος
- B** Η.Π.Α.
- C** Ελβετία
- D** Γερμανία
- E** Αγκόλα.

33. Οι ανανεώσιμες πηγές ενέργειας είναι οι πηγές οι οποίες δεν εξαντλούνται από τη Γη. Ποιο από τα πιο κάτω παραδείγματα δείχνει χρήση ανανεώσιμης πηγής ενέργειας;

- A** Ένας καυστήρας κάρβουνου ζεσταίνει το σπίτι
- B** Μια ανεμογεννήτρια παράγει ηλεκτρική ενέργεια
- C** Μια λάμπα πετρελαίου φωτίζει το δωμάτιο
- D** Ένα πετρελαιοκίνητο φορτηγό ταξιδεύει στο δρόμο
- E** Μία σόμπα γκαζιού ζεσταίνει το σπίτι.

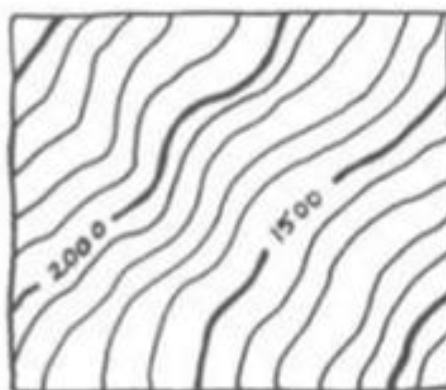
34. Υπάρχουν διάφοροι τύποι ερήμων. Ποιο κοινό γνώρισμα έχουν όλες οι έρημοι;

- A** Θερμούς χειμώνες
- B** Μεγάλα σε διάρκεια καλοκαίρια
- C** Πολύ χαμηλές βροχοπτώσεις
- D** Χαμηλές θερμοκρασίες κατά τη διάρκεια της μέρας και της νύχτας
- E** Χιονίζει.

35. Ο Δούναβης είναι ένας ποταμός που εκβάλλει:

- A στη Μαύρη θάλασσα
- B στο Αιγαίο Πέλαγος
- C στη Μεσόγειο θάλασσα
- D στη Θάλασσα του Μαρμαρά
- E στη Βόρεια Θάλασσα.

36. Να παρατηρήσετε το Σχέδιο 1.



Απότομη πλαγιά

Σχέδιο 1

Η απόσταση της μιας από την άλλη ισοϋψή καμπύλη ονομάζεται ισοδιάσταση και διαφέρει ανάλογα με τον χάρτη. Ποια είναι η ισοδιάσταση του χάρτη; Να επιλέξετε τη σωστή απάντηση.


- A 1000 μέτρα
- B 500 μέτρα
- C 100 μέτρα
- D 50 μέτρα
- E 10 μέτρα.

37. Τι ποσοστό της επιφάνειας της Γης καλύπτεται από θάλασσα;

- A 98%
- B 90%
- C 70%
- D 60%
- E 20%.

- 38. Πώς ονομάζεται ο γεωγραφικός σχηματισμός ο οποίος προκύπτει από την απόθεση ιζημάτων που μεταφέρει ένας ποταμός στην εκβολή του; Να επιλέξετε τη σωστή απάντηση.**
- A Συμβολή
 - B Δέλτα**
 - C Πηγή
 - D Αποταμιευτήρας νερού
 - E Υδροκρίτης.
- 39. Ποιο από τα παρακάτω κράτη βρίσκεται στην Ιβηρική χερσόνησο;**
- A Γαλλία
 - B Ιταλία
 - C Πορτογαλία**
 - D Μάλτα
 - E Ολλανδία.
- 40. Ποια από τις παρακάτω μορφές ενέργειας είναι πιο φιλική προς το περιβάλλον;**
- A Καυσόξυλα
 - B Γεωθερμία**
 - C Άνθρακας
 - D Πυρηνική Ενέργεια
 - E Υδρογονάνθρακες.
- 41. Να επιλέξετε ποιο από τα παρακάτω ΔΕΝ αποτελεί παράγοντα που επηρεάζει το βιοτικό επίπεδο κάθε ανθρώπου.**
- A Η πρόσβαση σε καθαρό νερό
 - B Η παροχή ιατρικής και φαρμακευτικής περίθαλψης
 - C Η εξασφάλιση στέγης
 - D Η επιλογή ιδιωτικής εκπαίδευσης**
 - E Η πρόσβαση σε εργασία.

42. Να παρατηρήσετε το Σχέδιο 2.



Σχέδιο 2

Το Σχέδιο 2 αντιστοιχεί σε μόνο μία από τις παρακάτω τομές. Να επιλέξετε τη σωστή απάντηση.

A



B



C



D



E



43. Ποιο από τα παρακάτω επαγγέλματα ΔΕΝ ανήκει στον πρωτογενή τομέα παραγωγής;

A Ψαράς

B Γεωργός

C Μελισσοκόμος

D Ξυλοκόπος

E Εργάτης σε εργοστάσιο.

44. Το 78% της Ατμόσφαιρας αποτελείται από:

A άζωτο

B ήλιο

C όζον

D μεθάνιο

E προπάνιο.

45. Να παρατηρήσετε τον Πίνακα 3.

Πίνακας 3

Έκταση Κύπρου	Πληθυσμός Κύπρου το 2011
9251 κμ ²	838.897

Πηγή δεδομένων: Στατιστική Υπηρεσία της Κυπριακής Δημοκρατίας, 2011

Να βρείτε ποια είναι η πυκνότητα πληθυσμού της Κύπρου. Να επιλέξετε τη σωστή απάντηση.

- A 90,7 κάτοικοι ανά τετραγωνικό χιλιόμετρο
- B 113 κάτοικοι ανά τετραγωνικό χιλιόμετρο
- C 47,2 κάτοικοι ανά τετραγωνικό χιλιόμετρο
- D 67 κάτοικοι ανά τετραγωνικό χιλιόμετρο
- E 79,2 κάτοικοι ανά τετραγωνικό χιλιόμετρο.

46. Τα πέντε μεγαλύτερα νησιά της Μεσογείου Θάλασσας ΚΑΤΑ ΣΕΙΡΑ είναι:

- A Σικελία, Μάλτα, Κύπρος, Κρήτη, Κορσική
- B Ρόδος, Κύπρος, Κρήτη, Σαρδηνία, Κορσική
- C Σικελία, Σαρδηνία, Κύπρος, Κορσική, Κρήτη
- D Κύπρος, Κρήτη, Σαρδηνία, Κορσική, Σικελία
- E Ιρλανδία, Σικελία, Κρήτη, Κύπρος, Σαρδηνία.

47. Ποιο κράτος από τα παρακάτω είναι μέλος της Ευρωπαϊκής Ένωσης;

- A Ισλανδία
- B Τουρκία
- C Ρωσία
- D Εσθονία
- E Σερβία.

48. Ποια από τις πιο κάτω αλλαγές περιγράφει την υγροποίηση;

- A Το υγρό μετατρέπεται σε αέριο
- B Το αέριο μετατρέπεται σε στερεό
- C Το στερεό μετατρέπεται σε αέριο
- D Το αέριο μετατρέπεται σε υγρό
- E Το υγρό μετατρέπεται σε στερεό.

49. Τα έξι κράτη που υπέγραψαν την Συνθήκη της Ρώμης από την οποία προέκυψε η Ευρωπαϊκή Ένωση είναι:

- A** Βέλγιο, Α. Γερμανία, Γαλλία, Ιταλία, Ολλανδία, Λουξεμβούργο
- B** Βέλγιο, Δ. Γερμανία, Ισπανία, Ιταλία, Ολλανδία, Λουξεμβούργο
- C** Γαλλία, Δ. Γερμανία, Ισπανία, Ιταλία, Η.Β., Ολλανδία
- D** Ολλανδία, Δ. Γερμανία, Βέλγιο, Λουξεμβούργο, Γαλλία, Ιταλία
- E** Ολλανδία, Βέλγιο, Η.Β., Γαλλία, Δ. Γερμανία, Λουξεμβούργο.

50. Ποιο από τα παρακάτω ΔΕΝ αποτελεί θεσμικό όργανο της Ευρωπαϊκής Ένωσης;

- A** Η Ευρωπαϊκή Επιτροπή
- B** Το Συμβούλιο της Ευρωπαϊκής Ένωσης
- C** Το Ευρωπαϊκό Κοινοβούλιο
- D** Η Ευρωπαϊκή Κεντρική Τράπεζα
- E** Το Συμβούλιο της Ευρώπης.

Γεωγραφικός Όμιλος Κύπρου

**Παγκύπριος Σύνδεσμος
Καθηγητών Γεωγραφίας
Ο.Ε.Λ.Μ.Ε.Κ.**



1^η Παγκύπρια Ολυμπιάδα Γεωγραφίας Γυμνασίου

ΓΑΙΑ 2019

Σάββατο 13 Απριλίου 2019