

Γεωγραφικός Όμιλος
Κύπρου



Παγκύπριος Σύνδεσμος Καθηγητών
Γεωγραφίας Ο.Ε.Λ.Μ.Ε.Κ.



2^η Παγκύπρια Ολυμπιάδα Γεωγραφίας Γυμνασίου

ΑΤΛΑΣ 2022

Σάββατο 14 Μαΐου 2022 Διάρκεια: 2 ώρες (11:00-13:00)

ΟΔΗΓΙΕΣ ΠΡΟΣ ΤΟΥΣ ΔΙΑΓΝΩΝΙΖΟΜΕΝΟΥΣ

1. Στο ΦΥΛΛΟ ΑΠΑΝΤΗΣΕΩΝ:

- α. Συμπληρώστε τα στοιχεία σας (Επώνυμο, Όνομα, Σχολείο, Εξεταστικό κέντρο)
- β. Μη γράψετε οτιδήποτε στο φύλλο απαντήσεων το οποίο θα μπορεί να αποκαλύψει την ταυτότητά σας.

2. Το εξεταστικό δοκίμιο αποτελείται από πενήντα (50) ερωτήσεις πολλαπλής επιλογής.

3. Για κάθε ερώτηση υπάρχει ΜΟΝΟ ΜΙΑ ορθή απάντηση που βαθμολογείται με μια (1) μονάδα.

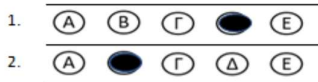
4. Για κάθε λανθασμένη απάντηση αφαιρείται 0,25 της μονάδας (-0,25).

5. Ερώτηση για την οποία δίνονται δύο ή περισσότερες απαντήσεις θεωρείται λανθασμένη (-0,25).

6. Κάθε αναπάντητη ερώτηση βαθμολογείται με μηδέν (0) μονάδες.

7. . Οι επιλογές καταχωρούνται στο ΦΥΛΛΟ ΑΠΑΝΤΗΣΕΩΝ:

- α. Μαυρίστε με μολύβι τον κύκλο που αντιστοιχεί στην απάντηση που επιλέγετε. Π.χ.



- β. Σε περίπτωση λάθους σβήστε με το σβηστήρι σας, χωρίς μουντζούρες, τον μαυρισμένο κύκλο και μαυρίστε τον κύκλο που αντιστοιχεί στη νέα σας επιλογή.

γ. Απαγορεύεται η χρήση διορθωτικού στο ΦΥΛΛΟ ΑΠΑΝΤΗΣΕΩΝ.

δ. Μη τσαλακώνετε το ΦΥΛΛΟ ΑΠΑΝΤΗΣΕΩΝ.

1. Ποιο από τα παρακάτω επεξηγεί την υπεραλίευση;

- A** Όταν σκοτώνουμε συνειδητά ένα ζώο.
- B** Όταν ψαρεύουμε περισσότερα ψάρια από όσα μπορούν να αναπαραχθούν.
- Γ** Όταν κτίζουμε στις παραλίες πολλά ξενοδοχεία, σπίτια, λιμάνια και δρόμους.
- Δ** Όταν τοξικά απόβλητα, λύματα και σκουπίδια προκαλούν θαλάσσια ρύπανση.
- E** Η παρουσίαση πολλών ιχθυοτροφείων σε μια χώρα.

2. Ο Δούναβης είναι ένας ποταμός που πηγάζει από:

- A** Τη Μαύρη θάλασσα.
- B** Τη Γερμανία.
- Γ** Την Κροατία.
- Δ** Τη Ρουμανία.
- E** Τη Μεσόγειο Θάλασσα.

3. Πώς ονομάζεται ο γεωγραφικός σχηματισμός ο οποίος προκύπτει από την απόθεση ιζημάτων που μεταφέρει ένας ποταμός στην εκβολή του; Να επιλέξετε τη σωστή απάντηση.

- A** Συμβολή.
- B** Δέλτα.
- Γ** Πηγή.
- Δ** Λεκάνη Απορροής.
- E** Υδροκρίτης.

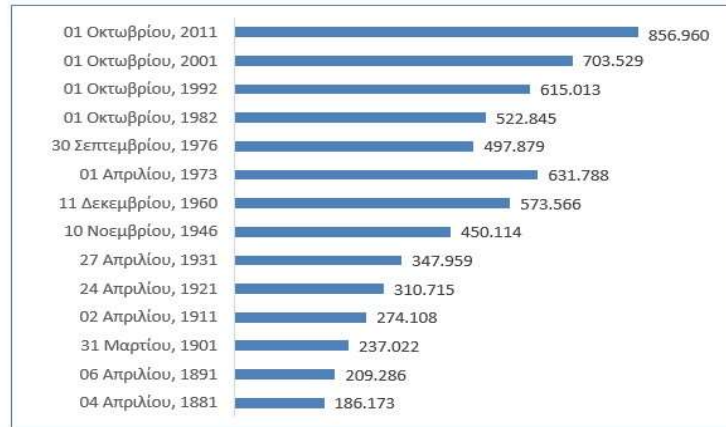
4. Ποιο από τα παρακάτω κράτη βρίσκεται στη Βαλκανική χερσόνησο;

- A** Γαλλία.
- B** Ιταλία.
- Γ** Ελλάδα.
- Δ** Νορβηγία.
- E** Κύπρος.

5. Να παρατηρήσετε τον πίνακα 1.

Πίνακας 1

Πληθυσμιακή Εξέλιξη στα χρόνια των Απογραφών, 1881-2011



Σημείωση:

Οι απογραφές μετά το 1974 αναφέρονται στις ελεγχόμενες από το Κράτος περιοχές.

Πηγή δεδομένων: Στατιστική Υπηρεσία της Κυπριακής Δημοκρατίας

Ποια από τις πιο κάτω δηλώσεις αντικατοπτρίζει την πληθυσμιακή εξέλιξη της Κύπρου έτσι όπως φαίνεται στον πιο πάνω πίνακα.

- A** Ο πληθυσμός της Κύπρου ακολουθεί ανοδική πορεία.
- B** Χρόνο με τον χρόνο ο πληθυσμός της Κύπρου μειώνεται.
- Γ** Ο πληθυσμός της Κύπρου ακολουθεί αυξητική πορεία εκτός από τη μείωση που παρατηρείται το 1976.
- Δ** Ο πληθυσμός της Κύπρου παραμένει σταθερός.
- E** Ο πληθυσμός της Κύπρου το 2011 είναι διπλάσιος από το 1901.

6. Ποια από τις παρακάτω μορφές ενέργειας είναι πιο φιλική προς το περιβάλλον;

- A** Πετρέλαιο.
- B** Γεωθερμική Ενέργεια.
- Γ** Άνθρακας.
- Δ** Πυρηνική Ενέργεια.
- E** Υδρογονάνθρακες.

7. Ποιο από τα παρακάτω επαγγέλματα ανήκει στον πρωτογενή τομέα παραγωγής;

- A** Εκπαιδευτικός.
- B** Τραπεζικός.
- Γ** Μελισσοκόμος.
- Δ** Δημοσιογράφος.
- E** Εργάτης σε εργοστάσιο.

8. Τα πέντε μεγαλύτερα νησιά της Μεσογείου Θάλασσας ΚΑΤΑ ΣΕΙΡΑ είναι:

- A** Ιρλανδία, Σικελία, Κρήτη, Κύπρος, Σαρδηνία
- B** Ρόδος, Κύπρος, Κρήτη, Σαρδηνία, Κορσική.
- Γ** Σικελία, Μάλτα, Κύπρος, Κρήτη, Κορσική.
- Δ** Κύπρος, Κρήτη, Σαρδηνία, Κορσική, Σικελία.
- E** Σικελία, Σαρδηνία, Κύπρος, Κορσική, Κρήτη.

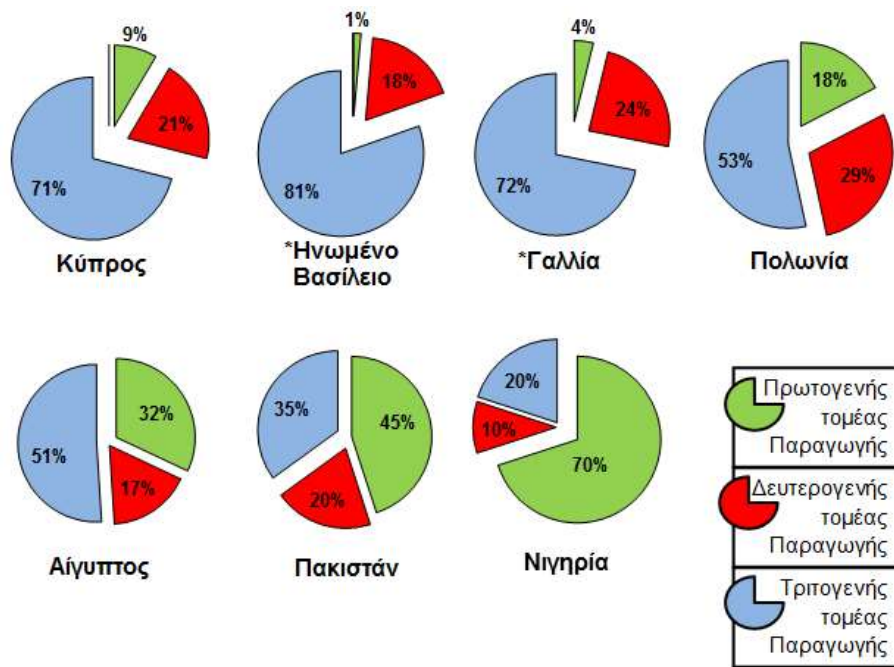
9. Ποιο κράτος από τα παρακάτω είναι μέλος της Ευρωπαϊκής Ένωσης;

- A** Ιρλανδία.
- B** Τουρκία.
- Γ** Ρωσία.
- Δ** Ηνωμένο Βασίλειο.
- E** Σερβία.

10. Πως ονομάζεται ο ποταμός που επιτρέπει την διακίνηση μέσω μεταφοράς;

- A** Διώρυγα.
- B** Πορθμός.
- Γ** Χερσόνησος.
- Δ** Πλωτός.
- E** Χείμαρρος.

11. Παρατηρήστε τις παραστάσεις και εντοπίστε τη λανθασμένη πρόταση.



- A** Η Κύπρος έχει περισσότερο ανεπτυγμένο Τριτογενή Τομέα σε σύγκριση με τον Πρωτογενή και Δευτερογενή.
- B** Στο Πακιστάν ο Τριτογενής Τομέας Παραγωγής είναι μεγαλύτερος από τον Δευτερογενή αλλά μικρότερος από τον Πρωτογενή.
- Γ** Στην Πολωνία ο Δευτερογενής Τομέας Παραγωγής είναι μεγαλύτερος από τον Πρωτογενή αλλά μικρότερος από τον Τριτογενή.
- Δ** Η Γαλλία έχει μικρότερο ποσοστό Τριτογενούς Τομέα Παραγωγής από το Ηνωμένο Βασίλειο, αλλά μεγαλύτερο από την Κύπρο.
- Ε** Η Νιγηρία έχει μεγαλύτερο ποσοστό Δευτερογενούς Τομέα Παραγωγής από την Αίγυπτο και το Πακιστάν.

12. Ποιο από τα παρακάτω επεξηγεί τα λεσεψιανά είδη;

- A** Είδη που βρίσκονται υπό εξαφάνιση.
- B** Ενδημικά είδη της Μεσογείου.
- Γ** Είδη που εισβάλουν στη Μεσόγειο Θάλασσα μέσω της διώρυγα του Σουέζ.
- Δ** Είδη που εισβάλλουν στη Μεσόγειο μέσω των Στενών του Γιβραλτάρ.
- Ε** Είδη καρχαρία με μεγάλη οικολογική σημασία για τα θαλάσσια οικοσυστήματα.

13. Ποιο κράτος από τα παρακάτω βρίσκεται στην οροσειρά των Άλπεων;

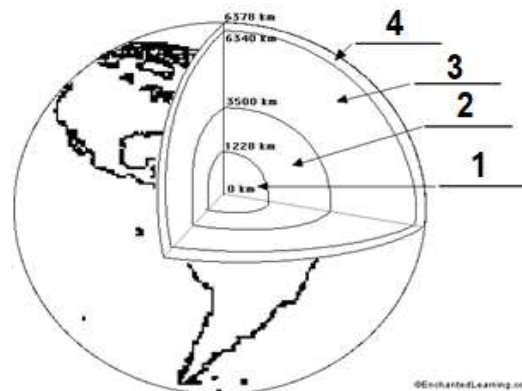
- A Ηνωμένο Βασίλειο.
- B Αυστρία.
- Γ Σουηδία.
- Δ Βουλγαρία.
- E Ελλάδα.

14. Ποιο κράτος από τα παρακάτω βρέχεται από τη Μεσόγειο Θάλασσα;

- A Ισλανδία.
- B Ισπανία.
- C Φινλανδία.
- D Πολωνία.
- E Σερβία.

15. Παρατηρήστε το σχήμα 1 στο οποίο φαίνεται η δομή της Γης.

Σχήμα 1

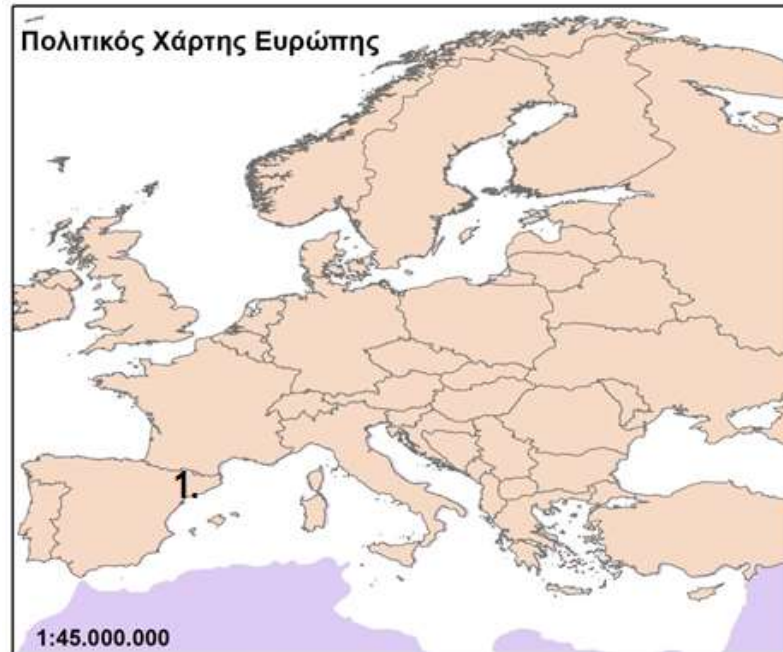


Επιλέξτε ποιο από τα παρακάτω έχει τα ορθά ονόματα για κάθε μέρος της Γης

- A 1. Φλοιός, 2. Πυρήνας, 3.Εξωτερικός Πυρήνας, 4.Μανδύας.
- B 1. Μανδύας, 2. Εξωτερικός Πυρήνας, 3.Πυρήνας, 4.Φλοιός.
- Γ 1. Πυρήνας, 2.Μανδύας, 3.Εξωτερικός Πυρήνας, 4.Φλοιός.
- Δ 1. Πυρήνας, 2. Εξωτερικός Πυρήνας, 3.Μανδύας, 4.Φλοιός.
- E 1. Εξωτερικός Πυρήνας, 2. Πυρήνας, 3.Φλοιός, 4.Μανδύας.

16. Να παρατηρήσετε τον χάρτη 3.

Χάρτης 3



Στον αριθμό 1 βρίσκεται μια μεσογειακή πόλη που έχει πληθυσμό άνω του 1 000 000 κατοίκων. Να βρείτε ποια από τις πιο κάτω πόλεις είναι αυτή που βρίσκεται στον αριθμό 1. Επιλέξτε τη σωστή απάντηση.

- A Βαρκελώνη.
- B Λονδίνο.
- Γ Παρίσι.
- Δ Βαρσοβία.
- Ε Αθήνα.

17. Σε ποια κλιματική ζώνη ανήκει το μεγαλύτερο μέρος της Ευρώπης;

- A Τροπική ζώνη.
- B Νότια Εύκρατη ζώνη.
- Γ Βόρεια Πολική ζώνη.
- Δ Βόρεια Εύκρατη ζώνη.
- Ε Νότια Πολική ζώνη.

18. Στη Μεσόγειο συναντιούνται τρεις ήπειροι. Ποιες είναι αυτές; Επιλέξτε τη σωστή απάντηση.

- A** Ευρώπη, Αφρική, Νότια Αμερική.
- B** Ευρώπη, Βόρεια Αμερική, Αφρική.
- Γ** Ασία, Αφρική, Ωκεανία.
- Δ** Ευρώπη, Ασία, Αφρική.
- E** Ευρώπη, Αφρική, Ωκεανία.

19. Η διώρυγα του Σουέζ με ποια θάλασσα ενώνει τη Μεσόγειο Θάλασσα;

- A** Μαύρη Θάλασσα.
- B** Κασπία Θάλασσα.
- Γ** Νεκρά Θάλασσα.
- Δ** Ατλαντικός Ωκεανός.
- E** Ερυθρά Θάλασσα.

20. Πως ονομάζονται τα νησιά της Μεσογείου που βρίσκονται στα ανατολικά της Ισπανίας;

- A** Κυκλάδες.
- B** Ιόνια νησιά.
- Γ** Νησιά Βαλεαρίδες.
- Δ** Σποράδες.
- E** Δωδεκάνησα.

21. Σε ποια θάλασσα εκβάλλει ο ποταμός Δούναβης;

- A** Μεσόγειο Θάλασσα.
- B** Μαύρη Θάλασσα.
- Γ** Ερυθρά Θάλασσα.
- Δ** Νεκρά Θάλασσα.
- E** Βόρεια Θάλασσα.


22. Ποια από τις πιο κάτω πρωτεύουσες βρίσκεται κτισμένη στις όχθες του Δούναβη;

- A** Βερολίνο.
- B** Λονδίνο.
- Γ** Βουδαπέστη.
- Δ** Βαρσοβία.
- Ε** Βουκουρέστι.

23. Ποια χερσόνησο αποτελούν η Ισπανία, η Πορτογαλία και η Ανδόρα;

- A** Σκανδιναβική.
- B** Βαλκανική.
- Γ** Ιβηρική.
- Δ** Γιουτλάνδη.
- Ε** Ιταλική.

24. Να διαλέξεις την εικόνα όπου βλέπεις να υπάρχει ηλεκτρική ενέργεια.



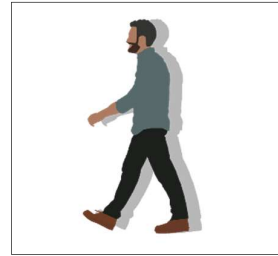
Εικόνα Α



Εικόνα Β



Εικόνα Γ



Εικόνα Δ

- A** Εικόνα Α.
- B** Εικόνα Β.
- Γ** Εικόνα Γ.
- Δ** Εικόνα Δ.
- Ε** Όλες οι πιο πάνω.

25. Οι Σκανδιναβικές Άλπεις αποτελούν φυσικό σύνορο μεταξύ των χωρών:

A Νορβηγία, Σουηδία, Φινλανδία.

B Νορβηγία, Σουηδία, Δανία.

Γ Σουηδία, Φινλανδία, Δανία.

Δ Νορβηγία, Φινλανδία, Δανία.

E Φινλανδία, Λετονία, Εσθονία.

26. Στις περιοχές που έχουν Μεσογειακό κλίμα συναντάμε:

A Πολύ ψυχρούς και μεγάλης διάρκειας χειμώνες.

B Ήπιους χειμώνες και δροσερά καλοκαίρια.

Γ Θερμό και βροχερό κλίμα, όλη τη διάρκεια του χρόνου.

Δ Θερμά και ξηρά καλοκαίρια, ήπιους και υγρούς χειμώνες.

E Πολύ χαμηλές θερμοκρασίες, όλη τη διάρκεια του χρόνου.

27. Ποιες από τις πιο κάτω χώρες βρέχονται από τη Μεσόγειο Θάλασσα;

A Κύπρος, Νορβηγία, Γερμανία, Ρωσία.

B Αίγυπτος, Κύπρος, Γαλλία, Ηνωμένο Βασίλειο.

Γ Κύπρος, Ιταλία, Ελλάδα, Γαλλία.

Δ Κύπρος, Ιταλία, Ελλάδα, Γερμανία.

E Τουρκία, Κύπρος, Ηνωμένο Βασίλειο, Αίγυπτος.

28. Ποια από τις παρακάτω μορφές ενέργειας είναι πιο ρυπογόνα προς το περιβάλλον.

A Γεωθερμική ενέργεια.

B Βιομάζα.

Γ Ηλιακή ενέργεια.

Δ Υδροηλεκτρική ενέργεια.

E Άνθρακας.

29. Ποιος από τους πιο κάτω ποταμούς δεν ανήκει στην Ευρωπαϊκή Ήπειρο.

A Δούναβης.

B Νείλος.

Γ Βόλγας.

Δ Δνειπερος.

E Τάμεσης.

30. Η ψηλότερη κορυφή της Ευρώπης είναι:

A Έλμπρους.

B Λευκό Όρος.

Γ Έβερεστ.

Δ Όλυμπος.

E Σμόλικας.

31. Τρεις ανανεώσιμες πηγές ενέργειας είναι:

A Ήλιος, Νερό, Πετρέλαιο.

B Ήλιος, Άνεμος, Φυσικό Αέριο.

Γ Ήλιος, Άνεμος, Νερό.

Δ Ήλιος, Νερό, Άνθρακας.

E Ήλιος, Βιομάζα, Φυσικό Αέριο.

32. Να επιλέξετε τη σωστή απάντηση. Οι Μη ανανεώσιμες πηγές ενέργειας:

A Δεν προκαλούν ρύπανση.

B Προκαλούν ρύπανση.

Γ Δεν εξαντλούνται.

Δ Είναι πιο οικονομικές.

E Είναι φιλικές προς το περιβάλλον.

33. Ποιο από τα παρακάτω συνιστούν βιώσιμη- αειφόρο ανάπτυξη.

- A** Οικονομική ανάπτυξη και εξοικονόμηση φυσικών πόρων.
- B** Αποψίλωση δασών για γεωργική χρήση.
- Γ** Προστασία κλίματος και περιβάλλοντος.
- Δ** Μείωση χρήσης νερού.
- E** Η εντατική χρήση δασών ως χώρους αναψυχής.

34. Στην Ισλανδία, η οποία βρίσκεται στον Αρκτικό κύκλο, οι χειμώνες είναι πολύ ψυχροί και τα καλοκαίρια διαρκούν λίγες μόνο εβδομάδες και είναι δροσερά. Να επιλέξετε τον τύπο κλίματος που επικρατεί στην Ισλανδία.

- A** Κλίμα στέππας.
- B** Ηπειρωτικό.
- Γ** Ωκεάνιο.
- Δ** Πολικό.
- E** Μεσογειακό.

35. Ποια είναι η πρωτεύουσα της Σλοβενίας;

- A** Λιουμπλιάνα.
- B** Μπρατισλάβα.
- Γ** Ζάγκρεμπ.
- Δ** Βερολίνο.
- E** Παρίσι.

36. Ποια είναι η διαδικασία που μετατρέπει το νερό από υγρή σε αέρια κατάσταση;

- A** Βροχόπτωση.
- B** Απόχυση.
- Γ** Διήθηση.
- Δ** Συμπύκνωση.
- E** Εξάτμιση.

37. Πόσες είναι οι παραδουνάβιες χώρες;

- A** Δέκα.
- B** Εννέα.
- Γ** Τέσσερις.
- Δ** Επτά.
- E** Έξι.

38. Ποιο από τα παρακάτω δεν είναι παράγοντας που επηρεάζει το κλίμα;

- A** Θαλάσσια ρεύματα.
- B** Υψόμετρο.
- Γ** Απόσταση της περιοχής από τη θάλασσα.
- Δ** Τα ορυχεία.
- E** Άνεμοι.

39. Στους ωκεανούς κατά μήκος του Ισημερινού:

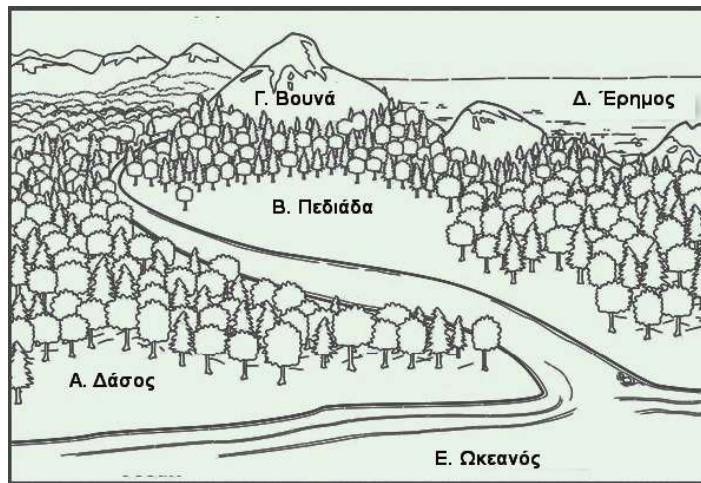
- A** Τα θαλάσσια ρεύματα είναι ψυχρά.
- B** Τα θαλάσσια ρεύματα είναι θερμά.
- Γ** Τα θαλάσσια ρεύματα είναι και ψυχρά και θερμά.
- Δ** Δεν παρατηρούνται θαλάσσια ρεύματα.
- E** Τα θαλάσσια ρεύματα από θερμά μετατρέπονται σε ψυχρά.

40. Κατά τη διαδικασία του κύκλου του νερού με ποια διαδικασία το νερό μετατρέπεται από υγρό σε αέριο; Να επιλέξετε τη σωστή απάντηση.

- A** Κατακρήμνιση.
- B** Διήθηση.
- Γ** Εξάτμιση.
- Δ** Συμπύκνωση.
- E** Διαπνοή.

41. Να παρατηρήσετε την εικόνα 1.

Εικόνα 1



Να επιλέξετε την καλύτερη τοποθεσία για καλλιέργειες.

A Τοποθεσία Α.

B Τοποθεσία Β.

Γ Τοποθεσία Γ.

Δ Τοποθεσία Δ.

Ε Τοποθεσία Ε.

42. Η κατεύθυνση κίνησης του νερού σε έναν ποταμό εξαρτάται από:

A Το μήκος του ποταμού.

B Την κλίση της επιφάνειας της Γης.

Γ Το ύψος της βροχόπτωσης.

Δ Τη θέση του Μαγνητικού Βορρά.

Ε Το κλίμα.

43. Οι ανανεώσιμες πηγές ενέργειας είναι οι πηγές που δεν εξαντλούνται από τη Γη. Ποιο από τα πιο κάτω παραδείγματα δείχνει χρήση ανανεώσιμης πηγής ενέργειας;

A Ένας καυστήρας κάρβουνου ζεσταίνει το σπίτι.

B Φωτοβολταϊκά που παράγουν ενέργεια.

Γ Μια λάμπα πετρελαίου φωτίζει το δωμάτιο.

Δ Ένα κρουαζιερόπλοιο ταξιδεύει στη θάλασσα.

Ε Μία σόμπα γκαζιού ζεσταίνει το σπίτι.

44. Η Κύπρος δημιουργήθηκε από:

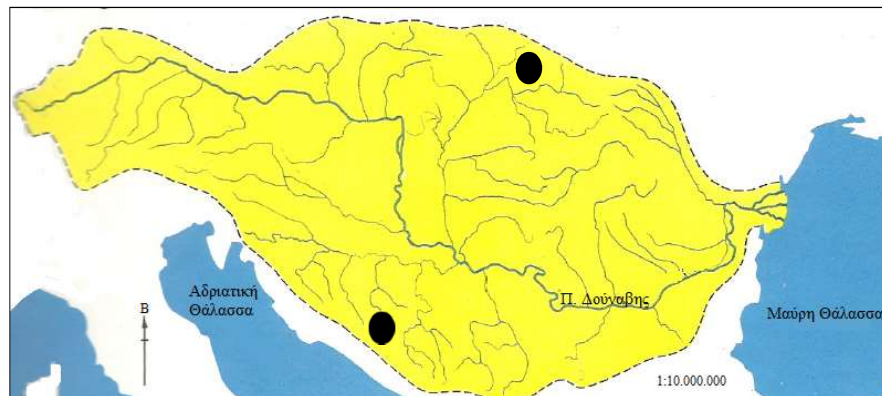
- A Σεισμό.
- B Ηφαίστειο.
- Γ Πτώση μετεωρίτη.
- Δ Κίνηση τεκτονικών πλακών.
- Ε Κανένα από τα πιο πάνω.

45. Χθες στις ειδήσεις είδαμε Και ανακοίνωσαν ότι το Σαββατοκύριακο θα βρέχει. Να επιλέξετε τη λέξη που λείπει.

- A Τη θερμοκρασία.
- B Τον καιρό.
- Γ Το κλίμα.
- Δ Τη θερμότητα.
- Ε Τη βροχόπτωση.

46. Παρατηρήστε το σχήμα 2 και να επιλέξετε γιατί συμβαίνει αυτό.

Σχήμα 2



Στο πιο πάνω σχήμα φαίνονται δύο μαύρες κουκκίδες. Η βροχή που πέφτει σε αυτές τις δύο μαύρες κουκκίδες καταλήγει στον Δούναβη, ο οποίος βρίσκεται αρκετά χιλιόμετρα μακριά.

- A Βρίσκονται στις πηγές του Δούναβη.
- B Βρίσκονται στις όχθες του Δούναβη.
- Γ Βρίσκονται σε παραδουνάβιες χώρες.
- Δ Βρίσκονται στη λεκάνη απορροής του Δούναβη.
- Ε Όλα τα πιο πάνω.

47. Ποιο από τα πιο κάτω αποτελεί το φυσικό σύνορο της Ευρώπης με την Αφρική;

A Ατλαντικός Ωκεανός.

B Κασπία Θάλασσα.

Γ Μεσόγειος Θάλασσα

Δ Μαύρη Θάλασσα.

E Ουράλια όρη.

48. Τα Πυρηναία αποτελούν φυσικό σύνορο μεταξύ ποιων χωρών;

A Πορτογαλία, Ισπανία, Γαλλία.

B Νορβηγία, Σουηδία, Φινλανδία.

Γ Γαλλία, Ανδόρα, Γερμανία.

Δ Ισπανία, Πορτογαλία.

E Ισπανία, Γαλλία, Ανδόρα.

49. Ποιας χώρας είναι πρωτεύουσα η Βιέννη;

A Σερβία.

B Αυστρία.

Γ Ουγγαρία.

Δ Ολλανδία.

E Πολωνία.

50. Η Ελλάδα έχει ήπιους υγρούς χειμώνες και θερμά ξηρά καλοκαίρια. Το κλίμα της είναι:

A Μεσογειακό.

B Κλίμα στέππας.

Γ Ηπειρωτικό.

Δ Ψυχρό ηπειρωτικό.

E Ωκεάνιο.